

۱- یک ۶ ضلعی را به ۶ قسمت مساوی تقسیم کرده ایم و هر قسمت را به ۳ قسمت مساوی دیگر تقسیم کرده ایم. این ۶ ضلعی به چند قسمت مساوی تقسیم شده است؟ (شکل بکشید)

۲- بر سر یک سفره مهمانی ۴ دیس قرار دارد. در هر دیس ۷ تکه مرغ و ۳ تکه گوشت قرار دارد و در یکی از دیس ها گوشت تمام شده است. روی هم چند تکه مرغ و گوشت در دیس ها قرار دارد؟ (با رسم شکل)

۳- تمام عددهای ۴ رقمی را بنویسید که رقم یکان و صدگان آن ها ۰ و رقم دهگان آن ها ۲ تا از هزارگانش بیشتر باشد.


۴- الگوهای زیر را کامل کنید.

۹۹۶۳ ۹۷۶۳ ۹۵۶۳

سه هزار و پنجاه - سه هزار و صد - سه هزار و صد و پنجاه - -

۵- درست یا نادرست بودن عبارات زیر را مشخص کنید.

- (الف) عدد دوهزار و یازده برابر ۲۰۱۱ است. درست نادرست
- (ب) هزارگان عدد ۵۰۴۸ از دهگان عدد ۳۱۵۶ یکی بیشتر است. درست نادرست
- (ج) ۱۰۰۰ کامیون در یک کوچه جا می شوند. درست نادرست





۶- جمع و تفریق زیر را به واحد خواسته شده تبدیل کنید.

ریال ریال ریال
 $4580 + 2620 = 7200$

..... به تومان

$583 + 102 = 685$

..... به ریال

تومان تومان تومان

۷- در جاهای خالی علامت مناسب $>$ $=$ $<$ بگذارید.

7153 7531

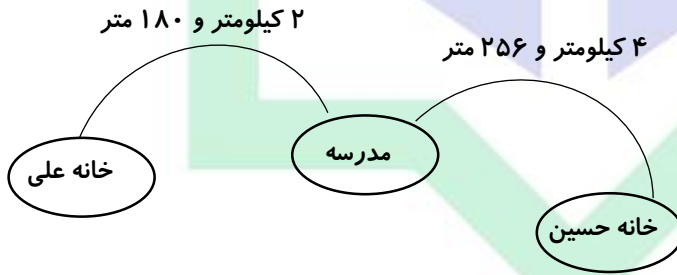
7078 708

5111 پنج هزار و یازده

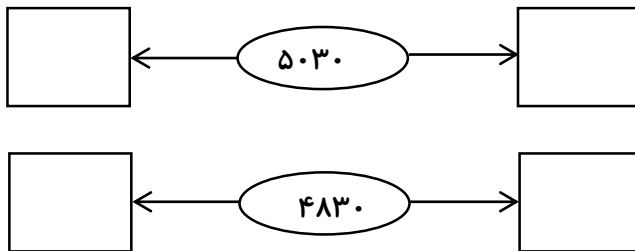
4002 چهار هزار و دو

۸- اگر ۳ رینگت کشور مالزی برابر ۲۰۰۰ تومان ارزش داشته باشد آیا با ۷۵۰۰ تومان می شود تویی به قیمت ۱۲ رینگت را خرید؟ چرا؟

۹- با توجه به شکل زیر، فاصله ی خانه ی علی تا خانه حسین چقدر است؟



۱۰- هر عدد بین کدام هزارتایی ها قرار دارد؟



فارسی

۱- هر جا لازم است نشانه ی (: و ، و ؟ و (()) را قرار دهید.

سعید با عجله به خانه آمد و از مادرش پرسید چرا به مدرسه نیامدی مادر پاسخ داد قبل از شروع جلسه به مدرسه آمدم و کارنامه ات را گرفتم سعید گفت متشکرم

۲- چه زمانی از نشانه (.) استفاده می کنیم؟

۳- کدام کلمه به معنی ((غصه)) است؟

الف) گریه کردن ب) نگران ج) پشیمانی د) دچار غم شدن

۴- به کدام دسته از کلمه های زیر می توان نشانه ی ((ای)) اضافه کرد؟

الف) دامنه ، کوچه ، کارخانه
ب) پاکیزه ، کلاس ، سکوت
ج) خنده ، حرکت ، ماشین
د) نماینده ، گنجشک ، خواست

۵- کدام کلمه را نمی توانیم به دو شکل بخوانیم.

الف) مهر ب) شش ج) لانه د) سم

۶- کدام گزینه با بقیه فرق دارد؟

الف) زیر، ریز ب) مهر، مهر ج) کرم، کرم د) کشتی، کشتی

۷- کدام یک زمان حال است؟

الف) گرفتم ب) گرفت ج) می روم د) گفتند

۸- در جای خالی کلمه ی مناسب قرار بده.

علی زنگ تفریح از استفاده کرد و تکالیفش را انجام داد.





الف) اطراف (ب) علاقه (ج) فرصت (د) کنجکاو

۹- با دیدن نشانه ی ویرگول (،) در جمله چه چیزی را می فهمی؟

الف) جمله تمام شده است (ج) جمله ادامه دارد

ب) جمله از کسی نقل شده است (د) جمله نشان دهنده ی تعجب یا خوشحالی است

۱۰- وقتی مطلبی را از کسی نقل قول می کنی باید چه نشانه ای به کار ببری؟

الف) ویرگول (،) (ب) دو نقطه (:) (ج) نقطه (.) (د) گیومه (())

۱۱- رفتگران به بهداشت کمک می کنند.

الف) شهر (ب) مدرسه (ج) خانه (د) مسجد

۱۲- کدام یک از صداهای زیر آلودگی صوتی ایجاد می کند؟

الف) باران (ب) خش خش برگ ها (ج) موتور سیکلت (د) رودخانه

۱۳- احمد در مدرسه آشغال ها را در سطل زباله می اندازد. او با این کار را رعایت کرده است.

الف) بهداشت گروهی (ب) بهداشت فردی (ج) آلودگی محیط زیست

